



# 체험 수학

## 보석 미로를 탈출해 봅시다

**인원** 2명

**준비물** 계산기

### 놀이 방법

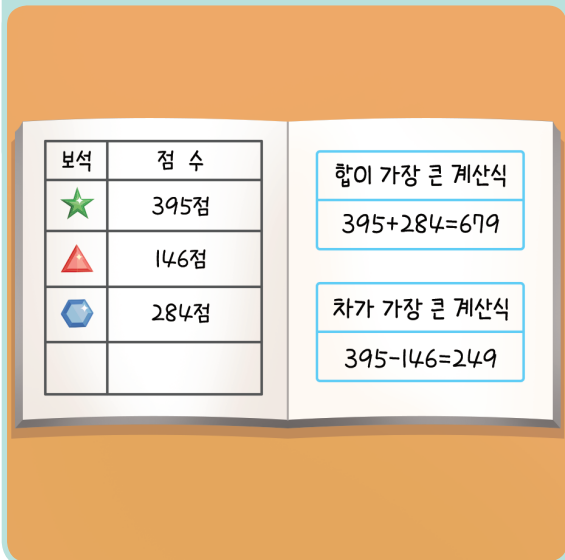
**1** 미로의 출발지에서 도착지로 가는 길을 선으로 긁습니다.



**2** 길에 있는 보석의 점수를 확인합니다.



**3** 점수 중에서 2개를 골라 합이 가장 큰 덧셈식과 차가 가장 큰 뺄셈식을 적습니다.



**4** 짝이 계산한 결과가 맞는지 계산기를 이용하여 확인합니다.



➤ 길을 찾고, 길에 있는 보석의 점수를 확인해 보세요.



146점



268점



284점



327점



395점

➤ 합과 차가 가장 큰 계산식을 써 보세요.

	합이 가장 큰 덧셈식	차가 가장 큰 뺄셈식
나		
짝		



# 놀이수학






## 덧셈 땅따먹기

놀이 규칙을 알아봅시다.

**인원** 2명    **준비물** 색연필, 지우개(공깃돌)

- ① 짝과 순서를 정하고 서로 시작할 위치를 정합니다.
- ② 각자 시작 위치에 지우개를 놓고 손으로 튕깁니다.
- ③ 지우개가 위치한 땅에 있는 문제를 풀어 정답이면 색칠합니다.
- ④ 팡 (💣) 이나 이미 차지한 땅이라면 다음 차례를 기다립니다.
- ⑤ 번갈아가며 게임을 진행하여 땅을 많이 가진 사람이 승리합니다.



	$\begin{array}{r} 636 \\ + 282 \\ \hline \end{array}$	$\begin{array}{r} 802 \\ + 178 \\ \hline \end{array}$	 시작 위치
$\begin{array}{r} 345 \\ + 436 \\ \hline \end{array}$	$\begin{array}{r} 366 \\ + 506 \\ \hline \end{array}$	$\begin{array}{r} 438 \\ + 317 \\ \hline \end{array}$	$\begin{array}{r} 525 \\ + 747 \\ \hline \end{array}$
$\begin{array}{r} 604 \\ + 253 \\ \hline \end{array}$	$\begin{array}{r} 315 \\ + 165 \\ \hline \end{array}$	$\begin{array}{r} 445 \\ + 486 \\ \hline \end{array}$	$\begin{array}{r} 663 \\ + 164 \\ \hline \end{array}$
$\begin{array}{r} 236 \\ + 580 \\ \hline \end{array}$		$\begin{array}{r} 223 \\ + 168 \\ \hline \end{array}$	$\begin{array}{r} 486 \\ + 215 \\ \hline \end{array}$
$\begin{array}{r} 824 \\ + 537 \\ \hline \end{array}$	$\begin{array}{r} 314 \\ + 165 \\ \hline \end{array}$	$\begin{array}{r} 332 \\ + 439 \\ \hline \end{array}$	$\begin{array}{r} 381 \\ + 357 \\ \hline \end{array}$
 시작 위치	$\begin{array}{r} 635 \\ + 340 \\ \hline \end{array}$	$\begin{array}{r} 142 \\ + 371 \\ \hline \end{array}$	



# 놀이수학

## 덧셈 땅따먹기






놀이 규칙을 알아봅시다.

**인원** 2명    **준비물** 색연필, 지우개(공깃돌)

- ① 짝과 순서를 정하고 서로 시작할 위치를 정합니다.
- ② 각자 시작 위치에 지우개를 놓고 손으로 튕깁니다.
- ③ 지우개가 위치한 땅에 있는 문제를 풀어 정답이면 색칠합니다.
- ④ 땅 ( )이나 이미 차지한 땅이라면 다음 차례를 기다립니다.
- ⑤ 번갈아가며 게임을 진행하여 땅을 많이 가진 사람이 승리합니다.

선에 멈춘다면 더 많이 놓인 곳을 선택하세요.



	$\begin{array}{r} 636 \\ + 282 \\ \hline 918 \end{array}$	$\begin{array}{r} 802 \\ + 178 \\ \hline 980 \end{array}$	 시작 위치
$\begin{array}{r} 345 \\ + 436 \\ \hline 781 \end{array}$	$\begin{array}{r} 366 \\ + 506 \\ \hline 872 \end{array}$	$\begin{array}{r} 438 \\ + 317 \\ \hline 755 \end{array}$	$\begin{array}{r} 525 \\ + 747 \\ \hline 1272 \end{array}$
$\begin{array}{r} 604 \\ + 253 \\ \hline 857 \end{array}$	$\begin{array}{r} 315 \\ + 165 \\ \hline 480 \end{array}$	$\begin{array}{r} 445 \\ + 486 \\ \hline 931 \end{array}$	$\begin{array}{r} 663 \\ + 164 \\ \hline 827 \end{array}$
$\begin{array}{r} 236 \\ + 580 \\ \hline 816 \end{array}$		$\begin{array}{r} 223 \\ + 168 \\ \hline 391 \end{array}$	$\begin{array}{r} 486 \\ + 215 \\ \hline 701 \end{array}$
$\begin{array}{r} 824 \\ + 537 \\ \hline 1361 \end{array}$	$\begin{array}{r} 314 \\ + 165 \\ \hline 479 \end{array}$	$\begin{array}{r} 332 \\ + 439 \\ \hline 771 \end{array}$	$\begin{array}{r} 381 \\ + 357 \\ \hline 738 \end{array}$
 시작 위치	$\begin{array}{r} 635 \\ + 340 \\ \hline 975 \end{array}$	$\begin{array}{r} 142 \\ + 371 \\ \hline 513 \end{array}$	



# 놀이수학

## 뺄셈 십자말 퀴즈

놀이 규칙을 알아봅시다.

**인원** 개인

① 식을 풀어서 답을 구하고 한 칸에 한 자리 수가 들어가도록 빈칸에 답을 써넣으세요.

가로	세로
① $347 - 116 =$	① $526 - 318 =$
② $906 - 543 =$	③ $823 - 192 =$
④ $472 - 191 =$	④ $449 - 181 =$
⑥ $479 - 241 =$	⑤ $431 - 179 =$
⑧ $682 - 524 =$	⑦ $869 - 481 =$
⑩ $605 - 488 =$	⑨ $670 - 552 =$

①				②	③	
	⑤		④			
	⑥	⑦			⑨	
				⑩		
⑧						



# 놀이수학

## 뺄셈 십자말 퀴즈

놀이 규칙을 알아봅시다.

**인원** 개인

① 식을 풀어서 답을 구하고 한 칸에 한 자리 수가 들어가도록 빈칸에 답을 써넣으세요.

가로	세로
① $347 - 116 = 231$	① $526 - 318 = 208$
② $906 - 543 = 363$	③ $823 - 192 = 631$
④ $472 - 191 = 281$	④ $449 - 181 = 268$
⑥ $479 - 241 = 238$	⑤ $431 - 179 = 252$
⑧ $682 - 524 = 158$	⑦ $869 - 481 = 388$
⑩ $605 - 488 = 117$	⑨ $670 - 552 = 118$

① 2	3	1		② 3	③ 6	3
0					3	
8	⑤ 2		④ 2	8	1	
	5		6			
	⑥ 2	⑦ 3	8		⑨ 1	
		8		⑩ 1	1	7
⑧ 1	5	8			8	